

Extrait du guide ressource pour P4S4

Période 4 • semaine 4

Objectifs des rituels de la semaine :

Résolution de problèmes	Rechercher l'état final : brassage
Numération	Décomposer, encadrer et écrire en lettres des nombres jusqu'à 100

Objectifs des nouveaux apprentissages :

Calcul	Additionner en ligne 2 nombres avec franchissement de dizaines
Résolution de problèmes	Défi : résoudre des problèmes en faisant des essais
Grandeurs et mesures	Mesurer et comparer indirectement la masse de 2 objets avec la balance de Roberval Mesurer la masse d'objets avec la balance de Roberval et une masse étalon

JOUR 1

JOUR 2

JOUR 3

JOUR 4

Le domaine massé : Grandeurs et mesures

Séance 1 de découverte, d'apprentissage : Pas de fichier 30 min	Séance 2, entraînement : Exercices 1 et 2 du fichier p. 111 30 min	Séance 3 de découverte, et d'apprentissage : Pas de fichier 30 min	Séance 4 entraînement : Exercices 1 et 2 du fichier p. 112 30 min
Rituel RdP : Cahier de rituels p. 54, problème 1 15 min	Rituel RdP : Cahier de rituels p. 54, problème 3 15 min	Rituel RdP : Cahier de rituels p. 54, problème 4 15 min	Séance 1 de découverte, d'apprentissage en RdP : Problèmes 1 et 2 p. 113-114 30 min
Entraînement au calcul mental, faits numériques et procédures : Exercice 3 du fichier p. 105 15 min	Séance 1 de découverte, d'apprentissage en calcul : Pas de fichier 30 min	Entraînement au calcul mental : Exercice 1 du fichier p. 110 15 min	Entraînement au calcul mental : Exercice 2 du fichier p. 110 15 min
Rituel Numération : Cahier de rituels p. 54, exercice 2 Nombres à dire, mais dizaine supérieure à écrire : 53, 39, 85, 71, 67, 44 et 12. 15 min Entraînement collectif : projection de la fleur des nombres jusqu'à 100 (2) (Genially) Nombres à proposer : 36 et 85.		Rituel Numération : Cahier de rituels p. 55, exercices 5 et 6 15 min	

Extrait du cahier de rituels pour P4S4

p. 110 à 114

Période 4 • Semaine 4

1

Résolution de problèmes

JOUR 1

Au jeu de l'oie, Mia est sur la 21^e case. Elle lance les dés et avance de 6, puis 5 cases. Sur quelle case doit-elle placer son pion ?

Je **cherche**






Calcul :

Elle doit placer son pion

2

Numération

Écris la dizaine pleine qui vient après le nombre dicté.

						
.....

3

Résolution de problèmes

JOUR 2

Dans mon paquet, il y a 36 gâteaux. J'en distribue d'abord 6, puis 7. Combien de gâteaux me reste-t-il ?

Je **cherche** le nombre de

Calcul : Il me reste

4

Résolution de problèmes

JOUR 3

En jouant avec mes briques en bois, j'ai d'abord placé 12 briques, puis 7 et enfin 9. Combien de briques ai-je placées en tout sur ma construction ?

Je **cherche** le nombre total de

Calcul : J'ai placé

5

Numération

Écris ces nombres en lettres.

32 →

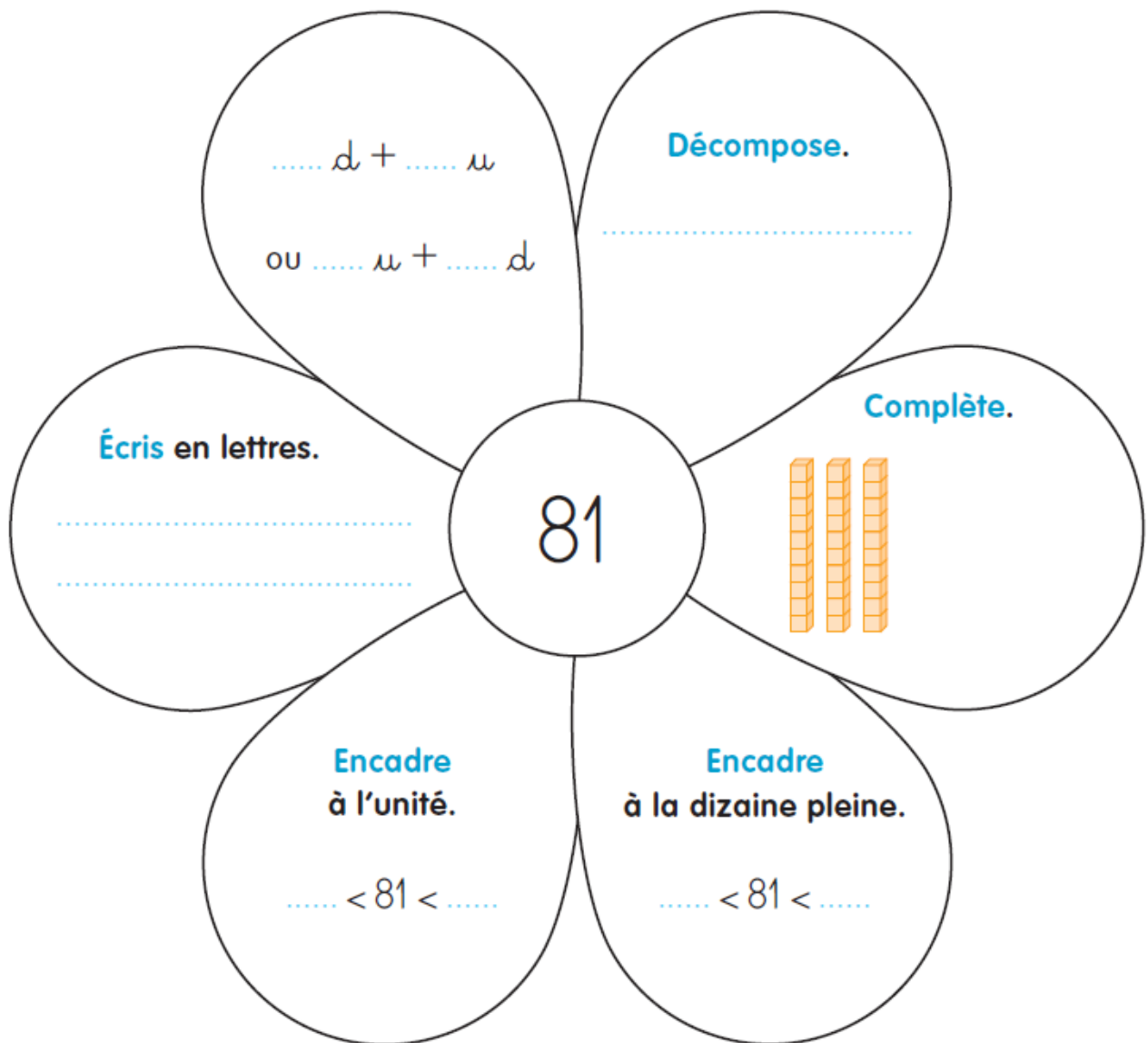
83 →

19 →

6

Numération

Complète la fleur du nombre 81.



Extrait du guide ressource pour P4S5

Période 4 • semaine 5

Objectifs des rituels de la semaine :

Calcul	Calculer en ligne
Grandeurs et mesures	Mesurer la masse d'objets avec la balance de Roberval et une masse étalon Ranger les objets selon leur masse

Objectifs des nouveaux apprentissages :

Calcul	Poser et calculer une addition
Résolution de problèmes	Résoudre des problèmes multiplicatifs : recherche du tout ou de la valeur des parties grâce à la manipulation
Numération	Ordonner des nombres jusqu'à 100 Repérer un rang ou une position dans une file orientée

JOUR 1

JOUR 2

JOUR 3

JOUR 4

Le domaine massé : Numération

Séance 1 de découverte, d'apprentissage : Exercices 1 et 2 du fichier p. 117 30 min	Séance 2, suite de l'apprentissage et entraînement : Exercices 3 et 4 du fichier p. 118 30 min	Séance 3 entraînement : Exercice 5 du fichier p. 118 30 min	Séance 4 entraînement : Pas de fichier 30 min
--	---	--	--

Exemple d'une semaine sans rituels en RDP car la séance précédente était un défi.

Séance 1 de découverte, d'apprentissage en RdP :
Pas de fichier
30 min

Entraînement au calcul en ligne : Exercice 3 p. 110 Exercice 1 du cahier de rituels p. 56 15 min	Entraînement au calcul posé : Pas de fichier 30 min	Entraînement au calcul posé : Exercice 1 du fichier p. 115 15 min	Entraînement au calcul mental : Exercice 2 du fichier p. 116 15 min
--	--	--	--

Rituel Grandeurs et mesures :
Cahier de rituels p. 56, exercice 2
15 min

Rituel Grandeurs et mesures :
Cahier de rituels p. 57, exercices 3 et 4
15 min

Extrait du cahier de rituels pour P4S5

p. 115 à 118

Période 4 • Semaine 5

Calcul

JOUR 1

1

Calcule en ligne.

$19 + 5 = \dots\dots\dots$

$48 + 7 = \dots\dots\dots$

$75 + 8 = \dots\dots\dots$

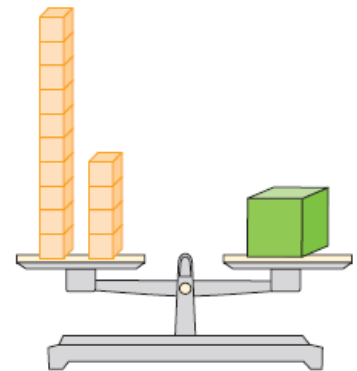
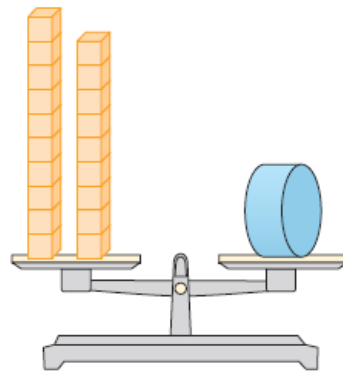
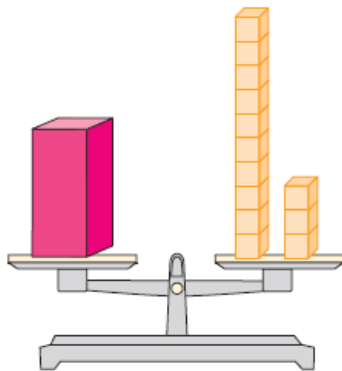
$67 + 6 = \dots\dots\dots$


$78 + 8 = \dots\dots\dots$


Grandeurs et mesures

2

Écris sous chaque balance, combien pèse chaque objet.



 pèse cubes.

 pèse cubes.

 pèse cubes.

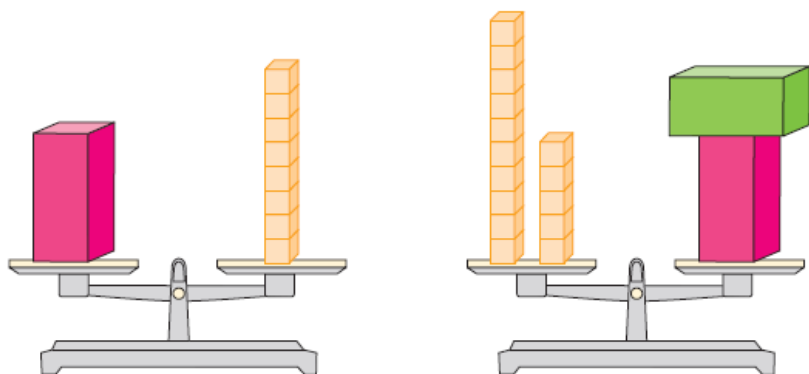
Dessine les objets pour les ranger du plus léger au plus lourd.


< <

Grandeurs et mesures

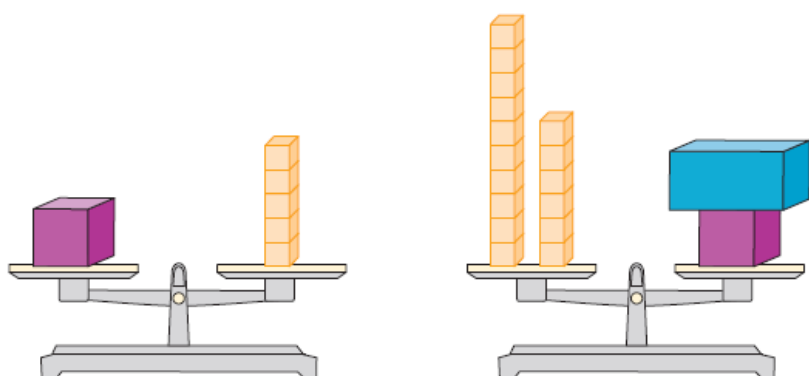
3


Écris combien pèse le solide vert.



 pèse

Écris combien pèse le solide bleu.



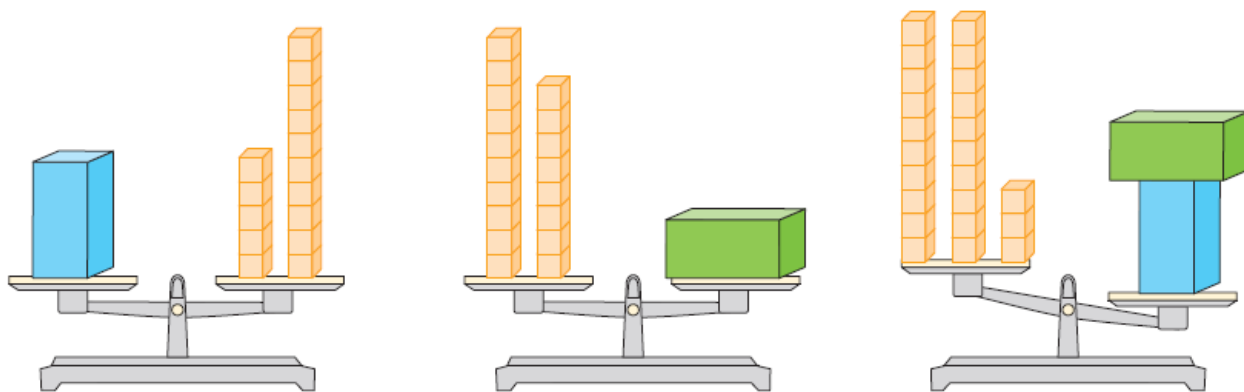
 pèse

Grandeurs et mesures

4

Réponds à la question.

Combien manque-t-il de cubes sur la dernière balance pour qu'elle soit équilibrée ?



Il manque cubes.