








Annexe 4

Résoudre un problème « fois plus » / « fois moins »

Nom :

Date :

Je coche la case quand j'ai terminé l'étape.








1		Je lis le problème.	
		Je surligne les mots importants : « fois plus » et « fois moins ».	
2		Je transforme la question en phrase-réponse.	
		Je dessine le Modèle en Barres (MeB). Je pense à utiliser mes instruments (règle, crayon, gomme) et à placer le point d'interrogation.	
3		Je calcule.	
4		J'écris le résultat dans la phrase-réponse.	
5		Je vérifie si mon résultat est possible.	



Nom :

Date :

Je coche la case quand j'ai terminé l'étape.

1		Je lis le problème.	
		Je surligne les mots importants : « fois plus » et « fois moins ».	
2		Je transforme la question en phrase-réponse.	
		Je dessine le Modèle en Barres (MeB). Je pense à utiliser mes instruments (règle, crayon, gomme) et à placer le point d'interrogation.	
3		Je calcule.	
4		J'écris le résultat dans la phrase-réponse.	
5		Je vérifie si mon résultat est possible.	